



روضة ومدرسة أكاديمية العزيز النموذجية

ورقة عمل لمادة العلوم

اسم الطالب:

الصف : الأول الأساسي (أ+ب)

السؤال الأول : أملأ الفراغات الآتية بما يناسبها :

(الموقع - السكون - التنافر - الحركة - التجاذب)

1-..... تغيير موقع الشيء.

2-..... هو ثبات الشيء في موقعه بمرور الوقت .

3-الأقطاب المتشابهة تدفع البعض مبتعدة و تسمى قوة.....

4-الأقطاب المختلفة تسحب بعضها نحو بعض مقتربة وتسمى

5-..... هو مكان وجود الشيء بالنسبة الى شئ اخر.


السؤال الثاني : عدد أنواع القوة ؟

1-.....


2-.....

السؤال الثالث : صنف القوى في كل من الاشكال الاتية الى قوى سحب أو قوى

دفع :



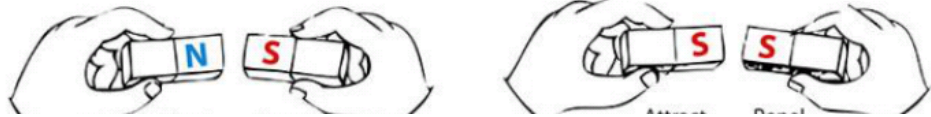
.....



السؤال الرابع : ضع إشارة (✓) أو (x) أمام كل من العبارات التالية:

- 1- الحركة هي تغير في موقع الجسم . ()
- 2- القوة هي الدفع او السحب المبذول لتحريك جسم ما . ()
- 3- الموقع هو مكان وجود شى ما . ()
- 4- تتحرك الاجسام بشكل دائري فقط. ()
- 5- يحرك السحب الجسم بعيدا عنك اما الدفع فيجذبه اتجاهك . ()
- 6- للمغناطيس طرفان كل طرف منهما يسمى قطبا. ()

السؤال الخامس : ضع دائرة حول (تجاذب - تنافر) :



تجاذب - تنافر

تجاذب - تنافر

انتهت الأسئلة

أتمنى للجميع التوفيق والنجاح

إعداد معلمات الصف الأول:

لينا أبو شكيره

أمينة الزيود